

Szerkeszd meg a háromszögek magasságvonalait! Munkádról fényképes visszajelzést várok!

Amennyiben gond lenne a szerkesztéssel, hívj vagy írd messengeren! Segítek.

A háromszög magasságvonalainak szerkesztése

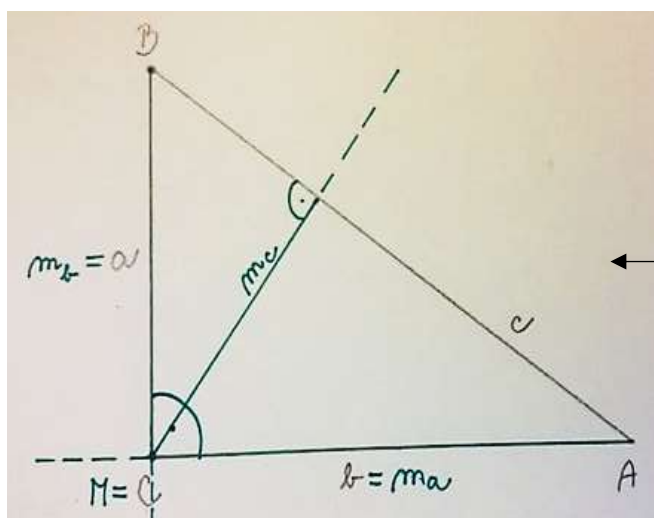
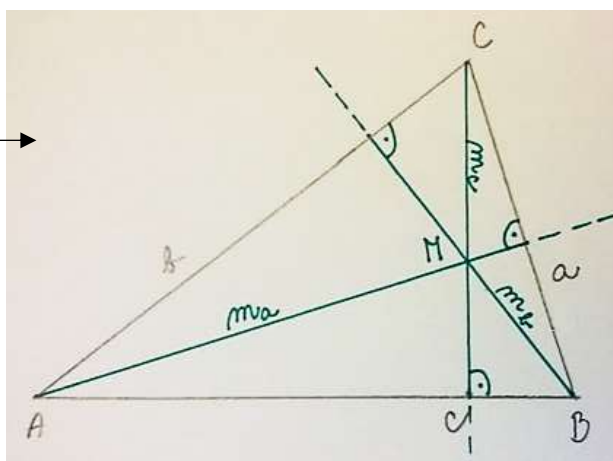
Konstrukcia výšok trojúhelníka

A magasságvonalakat a következő videó alapján tudod megrajzolni:

<https://www.youtube.com/watch?v=sTzuXnl4BvU>

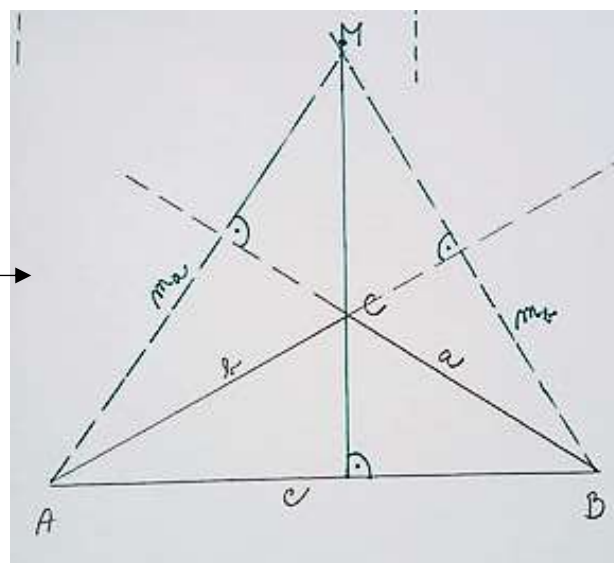
A füzetedbe rajzold meg a hegyesszögű, derékszögű és tompaszögű háromszög magasságvonalait!

A hegyesszögű háromszög magasságvonalai →



← A derékszögű háromszög magasságvonalai

A tompaszögű háromszög magasságvonalai →



Házi feladat

Oldjátok meg a matematika munkafüzetben lévő feladatokat!

MF2 32. oldalon: 1, 2

Jó munkát!