

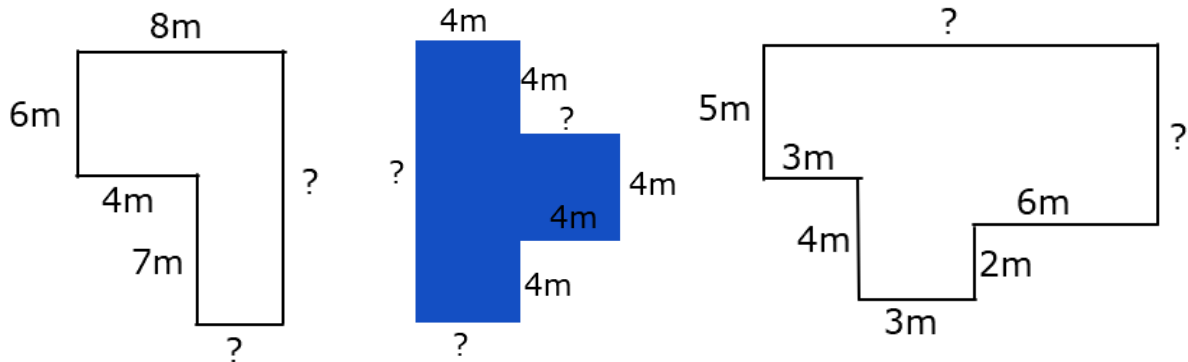
Feladatok – 6. évfolyam

március 22 – 26-ig


Hétfő: zoom-óra – Összetett alakzatok kerülete területe – besatírozott rész területének kiszámítása

Kedd: Oldjátok meg a matematika füzetetekben!

1. Számítsd ki az alakzatok **kerületét és területét!**



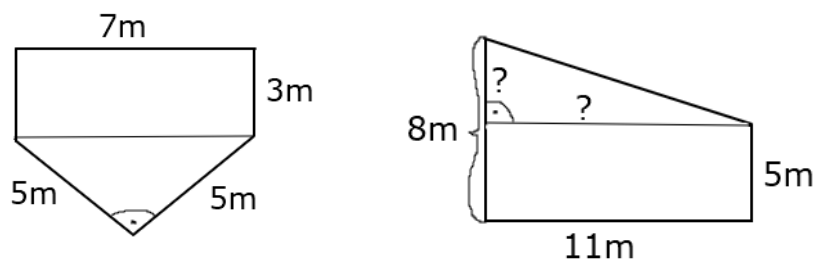
2. Számítsd ki a **befestett rész területét!**



Szerda: zoom-óra – A derékszögű háromszög területének kiszámítása

Csütörtök:

1. Oldjátok meg a **matematika munkafüzet 2. részében a 61/ 1 feladatot!**
2. Számítsátok ki a következő összetett alakzatok **területét** a matematika füzetetekben!



*Akinek segítségre van szüksége a feladatok megoldásához, jelentkezzen messengeren!
A megoldott feladatokról a fényképet legkésőbb péntek estig várom! Jó munkát!*